

**«Ертіс дарыны» өңірлік қосымша білім беру оқу-әдістемелік
орталығының облыстық «Жас кемеңгер» оқу мектебінің тапсырмалары
2021-2022 оқу жылы**







География

I тур

I кезең

7 сынып

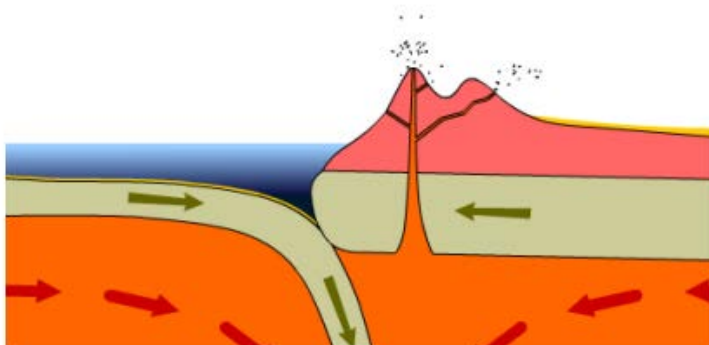
1. Көлдер, өзендер, қалалар, әр түрлі аумақтардың рельефі көрсетілген карта
2. Сақталып қалған ең көне глобус құрастырушысы
3. Жердегі учаскенің ұзындығы - 146 шақырым. Масштабы 1: 1500000 болса, картадағы ұзындығын табыңыз
4. Шартты белгілерді анықтаңыз

1		4	
2		5	
3		6	

5. Группа туристов двигалась сначала по азимуту 120° . Затем их дорога свернула вправо на 52° . Каков азимут туристов на обратном пути по этой же дороге

Туристер тобы алдымен 120° азимут бойынша жол жүрді. Кейін олардың жолы 52° бұрылды. Сол жол бойымен қайтып келе жатқан туристердің азимуттары қандай болады

6. Географиялық зерттеудің 5 әдісін анықтаңыз, оларға сипаттама беріңіз
7. Дүниежүзілік контурлық картасында Х.Колумб, Ф.Магеллан, Васко да Гама, А.Тасман, Д.Куктың саяхат маршруттарын белгілеңіз.
8. «Жердің ішкі құрылысы» сызба-суретін жасаңыз
9. Суретте көрсетілген тектоникалық үрдісті атаңыз және сипаттаңыз



10. А нүктесінен (Аконкагуа шыңы) В нүктесіне (Каир қаласы) гипсометриялық профиль салыңыз.

**Задания областной школы «Жас кемеңгер» регионального учебно-методического центра дополнительного образования «Ертіс дарыны»
2021-2022 учебный год**







География

I тур

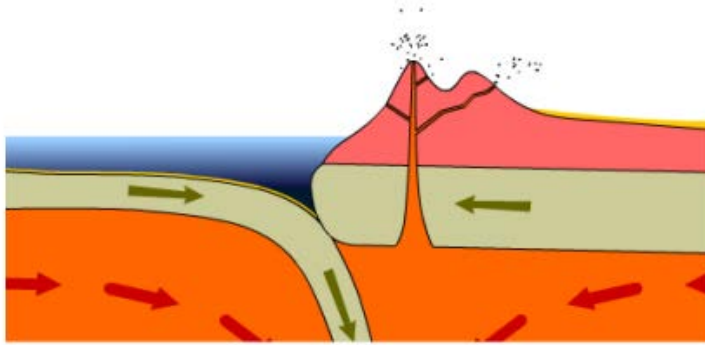
I этап

7 класс

1. Карта, на которой обозначены озера, реки, города, рельеф различных территорий
2. Создатель старейшего из сохранившихся до наших дней глобуса
3. Длина отрезка на местности равна 146 километров. Найдите длину на карте, если масштаб равен 1:1500000
4. Определите наименование условных обозначений

1		4	
2		5	
3		6	

5. Группа туристов двигалась сначала по азимуту 120° . Затем их дорога свернула вправо на 52° . Каков азимут туристов на обратном пути по этой же дороге
6. Определите 5 методов географических исследований, опишите их
7. На контурной карте мира обозначьте маршруты путешествий Х. Колумба, Ф. Магеллана, Васко да Гама, А. Тасмана, Д. Кука
8. Составьте схему-рисунок «Внутреннее строение земли»
9. Назовите и опишите тектонический процесс, показанный на рисунке



10. Оформите гипсометрический профиль от точки А (пик Аконкагуа) до точки Б (город Каир)